

14. Mustafa Kemal "Millî bilincin ayakta kalabilmesi ve uyunik tutulması için dil ve tarih uğrunda çalışmaya mecburuz." demiştir.

Mustafa Kemal'in bu sözü doğrultusunda aşağıdakilerden hangisinin yapıldığı savunulamaz?

- A) Medeni Kanun'un kabul edilmesi
B) Türk Tarih Tezi'nin oluşturulması
C) Millet Mekteplerinin açılması
D) Yeni Türk alfabesinin oluşturulması
E) Dil ve Tarih-Coğrafya Fakültesinin açılması
15. Mustafa Kemal, Birinci Dünya Savaşı sırasında Enver Paşa'nın Arap alfabesiyle okumayı kolaylaştırmak için harflerin bitişik değil ayrı yazılması yolundaki girişimini "Harp zamanı, harf zamanı değildir. Harp olurken harfle oynamak olur mu?" diye eleştirmiştir.
- Yaptığı inkılaplar düşünülerek Mustafa Kemal'in bu eleştirisinden aşağıdaki yargılardan hangisine ulaşılabilir?**
- A) İnkılaplar gerçekleştirilirken kişi veya gruplara ayrıcalık tanımamak gerekir.
B) İnkılap sürecinde ilgililere yetki ve sorumluluk birlikte verilmelidir.
C) İnkılaplarda sonuç alabilmek için eski ile yeniyi birlikte sürdürmek gerekir.
D) İnkılaplarda uygun zamanın seçilmesi önemlidir.
E) İnkılaplar yapılırken uygulamaların yakından takibi sonucu olumlu etkiler.

16. UNESCO "Savaş, insanların düşüncelerinde başlamaktadır. Bu nedenle de barışın savunulması öncelikle insanın düşüncesinde gerçekleştirilmelidir." ilkesini tüm dünyaya yaymaya uğraşmaktadır.

Atatürk'ün, UNESCO'nun kuruluşundan yıllar önce söylediği aşağıdaki sözlerinin hangisinde bu ilkenin dile getirildiği savunulabilir?

- A) Ne kadar zengin ve müreffeh olursa olsun bağımsızlıktan yoksun bir millet, medeni insanlık karşısında uşak olmak mevkiinden yüksek bir muameleye layık olamaz.
B) Biz daima gerçeği arayan ve onu buldukça, bulduğumuza kani oldukça ifadeye cüret gösteren adamlar olmalıyız.
C) Dünya vatandaşları kıskançlık, açgözlülük ve kinden uzaklaşacak biçimde eğitilmelidir.
D) Her şey için, medeniyet için, hayat için, muvaffakiyet için en hakiki mürşit ilimdir, fendir.
E) Her birey istediğini düşünmek, istediğine inanmak, kendine özgü siyasal bir fikre sahip olmak... hak ve özgürlüğüne sahiptir.
17. Millî güç unsurlarından biri olan siyasî güç; bir devletin millî hedeflerine ulaşmak, ulaştığı hedefleri korumak ve millî menfaat sağlamak amacıyla kullandığı siyasal kuvvetlerin toplamıdır.

Buna göre aşağıdakilerden hangisinin, bir ülkenin siyasî gücünün yüksek olabilmesi için gereken koşullardan biri olduğu savunulamaz?

- A) Uluslararası kuruluşlarda etkin olması
B) İç politikasının güçlü olması
C) Kanunların yeterli ve uygulamalarının eksiksiz olması
D) Diğer ülkelerle ilişkilerinde kendi çıkarlarını koruması
E) Ülkede belli bir gruba ayrıcalıklar tanınması

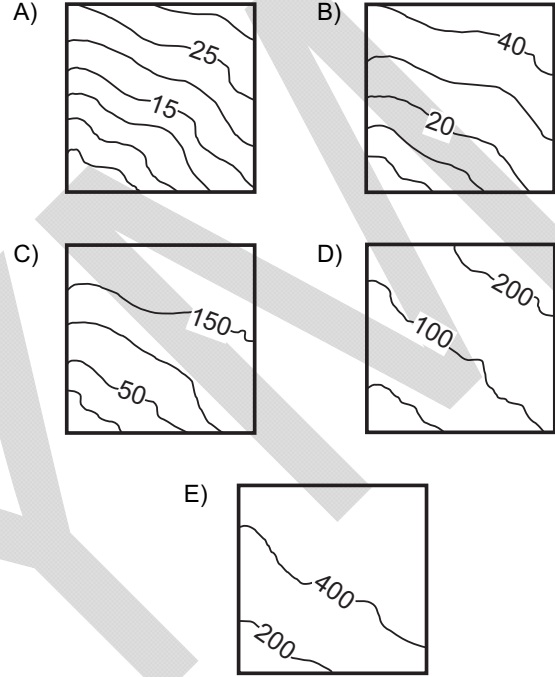
18. Doğal ve beşerî unsurlar birbirleriyle karşılıklı etkileşim içindedir.

Aşağıdaki durumlardan hangisinin beşerî faaliyetler üzerindeki olumsuz etkisi diğerlerinden daha fazladır?

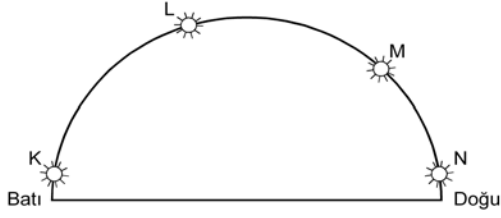
- A) İtalya'da Etna Yanardağı çevresinde toprakların geçirimli olması sonucu tarımsal ürün çeşitliliğinin azalmasının
- B) Şiddetli lodos nedeniyle Çanakkale Boğazı'nda deniz ulaşımının aksamasının
- C) İzlanda'da meydana gelen volkanik patlamalar sonucu kül ve toz bulutlarının hava trafiğini etkilemesinin
- D) Konya Havzası'nda obrukların oluşumu sonucu tarım alanlarının zarar görmesinin
- E) Antalya kıyılarında dalga aşındırması sonucu falezlerin gerilemesinin

19. Arazide yön ve hedef bulma sporlarında pusula ve büyük ölçekli haritalar sporcuların en önemli yardımcısıdır. Sporcular bu haritalar ile yer şekillerini belirleyerek en kısa zamanda yönlerini ve hedeflerini bulmaya çalışırlar.

Buna göre, Uludağ'da yapılacak bir yarışmada sporcuların yarışma alanına ait aşağıda birer parçası verilen haritalardan hangisini kullanması daha uygundur?



20.



Yukarıdaki şekilde 39° Kuzey Paraleli üzerinde yer alan K, L, M ve N merkezlerinde aynı günde ve aynı anda güneşin, gökyüzündeki konumu gösterilmiştir.

Buna göre,

- Diğerlerine göre en batıda yer alan merkez ----'dir.
I
- Diğerlerine göre K merkezinin başlangıç meridyenine göre konumu ---- .
II
- Diğerlerine göre güneşin en erken doğduğu merkez ----'dir.
III

cümlelerindeki boş bırakılan yerlere getirilmesi gerekenler aşağıdakilerden hangisinde doğru olarak verilmiştir?

	I	II	III
A)	K	en yakındır	N
B)	N	belirlenemez	K
C)	M	en uzaktır	L
D)	N	en yakındır	K
E)	L	belirlenemez	M

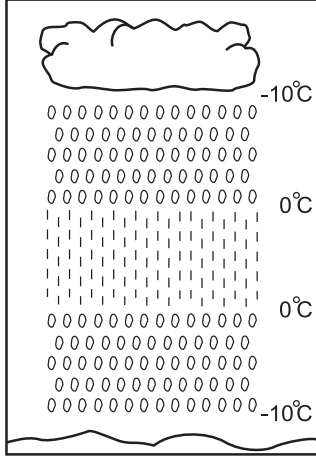
21. 171° Batı Meridyeni üzerinde bulunan Samoa Bağımsız Devleti'nin başkenti Apia, ülke meclisinin aldığı kararla;

- 149° Doğu Meridyeni üzerinde bulunan Avustralya'nın başkenti Canberra'nın 21 saat 20 dakika gerisindeyken 2 saat 40 dakika ilerisine geçmiştir.
- Yeni yıla en son giren başkent iken 2012'ye ilk giren başkent olmuştur.

Bu bilgilere göre, Samoa Bağımsız Devleti aşağıdaki kararlardan hangisiyle yukarıdaki her iki durumu aynı anda gerçekleştirmiştir?

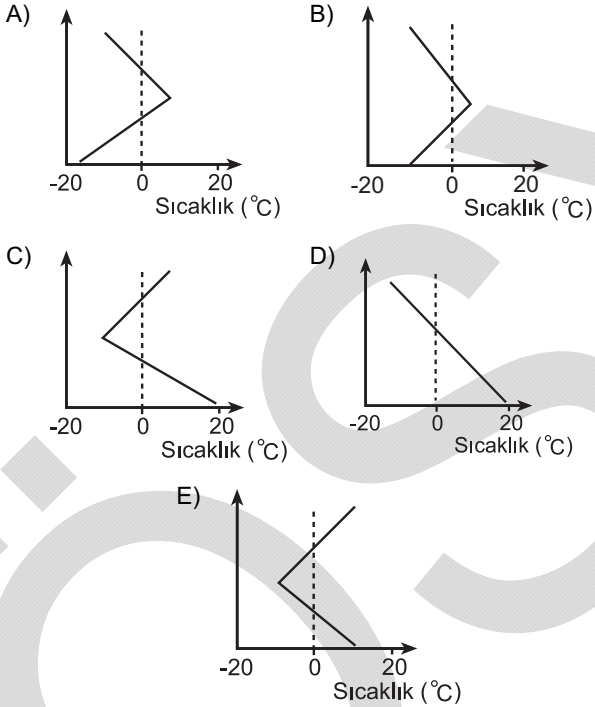
- A) Tarih değiştirme çizgisi olarak Greenwich'i kabul etme
- B) 31 Aralık tarihini Samoa için 21 saat 20 dakika olarak kabul etme
- C) Tarih değiştirme çizgisini ülkenin doğusuna kaydırma
- D) Ülkenin batısındaki başka bir kenti başkent olarak kabul etme
- E) 28 gün olan şubat aylarını 29 güne çıkarma

22.



Yukarıda verilen şekilde bir yerdeki yağışın oluşumundan yeryüzüne düşene kadar olan sıcaklık değişimi gösterilmiştir.

Buna göre, bulut ile yeryüzü arasındaki sıcaklık değişim grafiği aşağıdakilerden hangisidir?



23. İsviçre Alplerindeki kayak merkezleri ile kent merkezleri arasında balonla uçuş turları düzenleyen firmalar, rüzgârların esme yönlerinden yararlanarak yakıttan da tasarruf etmeye çalışmaktadır.

Dağ ve vadi meltemlerini kullanarak düzenlenen bu turların uçuş zamanı, rotası ve yararlandığı meltem çeşidi aşağıdakilerin hangisinde doğru olarak belirtilmiştir?

Uçuş zamanı	Uçuş rotası	Meltem çeşidi
A) Gündüz	Kent merkezinden kayak merkezine	Vadi meltemi
B) Gece	Kent merkezinden kayak merkezine	Vadi meltemi
C) Gündüz	Kayak merkezinden kent merkezine	Dağ meltemi
D) Gece	Kent merkezinden kayak merkezine	Dağ meltemi
E) Gündüz	Kayak merkezinden kent merkezine	Vadi meltemi

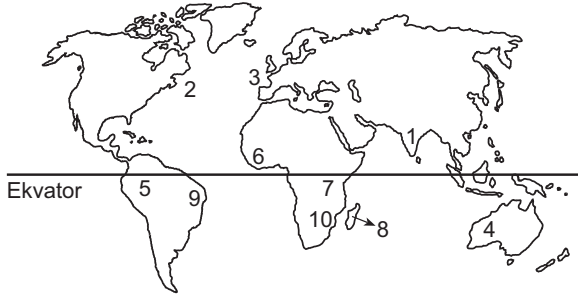
24.

Merkez	Sıcaklık (°C)	Maksimum nem (g/m ³)	Mutlak nem (g/m ³)
K	25	30	15
L	15	20	15
M	5	10	15
N	0	5	15
P	-5	1	15

Bu tabloya göre K, L, M, N ve P merkezleriyle ilgili aşağıdaki bilgilerden hangisi yanlıştır?

- A) K'nin bağıl nem oranı % 50'dir.
- B) L'de yağış oluşmamıştır.
- C) M'de yağış oluşmuştur.
- D) En fazla buharlaşma N'dedir.
- E) En fazla yoğuşma miktarı P'dedir.

25.



Yukarıdaki haritada numaralarla gösterilen yerler hakkında aşağıda yapılan yorumlardan hangisi, kıtaların bugünkü yerlerini almadan önce bir arada bulduklarının kanıtı olamaz?

- A) 2 ve 3 numaralı yerlerde kıyı çizgilerinin birbirine uyacak şekilde olması
- B) 6 ve 9 numaralı yerlerde magmatik kayaların aynı yaşta olması
- C) 8 ve 10 numaralı yerlerde fiziki koşulların benzer olması
- D) 1 ve 4 numaralı yerlerde fosillerin aynı yaşta ve benzer olması
- E) 5 ve 7 numaralı yerlerde yağmur ormanlarının olması
26. Bir akarsuyun yıllık akım miktarının, havzasına düşen yıllık yağış miktarına bölünmesiyle akarsuyun akış katsayısı elde edilir. Akış katsayısının 1 olması, akarsuyun havzasına düşen yağış tutarı kadar su taşıdığını gösterir.
- Buna göre, bir akarsuyun akış katsayısının 1'den büyük olması aşağıdakilerden hangisiyle açıklanabilir?**
- A) Yıllık buharlaşma miktarının çok fazla olmasıyla
- B) Akarsu havzasının çok geniş olmasıyla
- C) Akarsuyun eriyen buzul sularıyla da beslenmesiyle
- D) Akarsuyun yatak eğiminin fazla olmasıyla
- E) Havzasının kolları tarafından derince yarılmış olmasıyla

27. Nüfus ve yerleşmeyle ilgili olarak aşağıda verilen özelliklerden hangisinin ortaya çıkmasındaki temel etken doğru olarak verilmiştir?

Özellik	Temel etken
A) Kuzey Yarım Küre'de orta enlemler, alçak ve yüksek enlemlere göre daha fazla nüfusa sahiptir.	İklim
B) Nil Nehri Havzası'nın ağza yakın kısımları, orta ve yukarı kısımlarına göre daha fazla nüfuslanmıştır.	Su kaynakları
C) Ekvator çevresinde yerleşme sınırı dünya geneline göre daha yüksektir.	Yer şekilleri
D) Antarktika'da bilimsel araştırma istasyonları dışında sürekli yerleşim alanları bulunmamaktadır.	Kara ve denizlerin dağılışı
E) Avrupa'nın güney kıyılarında Kıta'nın kuzeyine göre nüfus daha fazladır.	Bakı

28. Değişik ölçütler göz önüne alınarak çizilen bölgelerin sınırları bazı durumlarda birbiriyle örtüşürken bazı durumlarda farklılık gösterir.

Buna göre, aşağıda verilen bölgelerin hangisinde sınırların birbirine en fazla benzerlik göstermesi beklenir?

- A) Asya'da doğal gaz çıkartılan yerler – Asya'da doğal gazın yoğun olarak tüketildiği yerler
- B) Afrika'da yağmur ormanları – Afrika'da nüfusun yoğun olduğu yerler
- C) Kuzey Amerika'da göller yöresi – Kuzey Amerika'daki zengin petrol bölgeleri
- D) Akdeniz ikliminin etkili olduğu yerler – Akdeniz'e kıyısı olan ülkeler
- E) Güney Amerika'da Amazon Havzası – Güney Amerika'da yağmur ormanları

29. Bir yerdeki nüfusu oluşturan kişiler, yaşları büyükten küçüğe doğru sıralandığında, ortada kalan kişinin yaşına ortanca yaş denilmektedir. Nüfusun yarısı bu yaştan küçük, diğer yarısı da bu yaştan büyüktür.

Aşağıdaki tabloda, Türkiye'nin yaş gruplarına göre nüfus oranları ve ortanca yaş değerleri verilmiştir.

Yıllar	0-14 (%)	65+ (%)	Ortanca yaş
1990	35	4,28	22,21
2000	29,83	5,70	24,83
2011	25,27	7,35	29,22

Bu tablodaki bilgilere göre, Türkiye nüfusuyla ilgili aşağıdaki yorumlardan hangisi kesinlikle doğrudur?

- A) 0-14 yaş grubu nüfus oranının yıllara göre düşmesi, nüfus artış hızının yükselmesiyle ilgilidir.
- B) Genç nüfuslu olma özelliğinden, yaşlı nüfuslu olma özelliğine doğru gitmektedir.
- C) Ortanca yaşın yıllara göre yükselmesindeki en önemli etken, nüfus artış hızının yükselmesidir.
- D) 65 yaş üzeri nüfus oranının yıllara göre artması, yaşlılığa bağlı ölüm oranlarının artışıyla ilgilidir.
- E) 0-14 yaş grubu nüfus oranının yıllara göre düşmesi, geri kalmış ülkelerle benzerlik gösterir.
30. Dünyada etkili olan doğal afet türleri arasında; tropikal siklonlar, taşkınlar ve kuraklık önemli yer tutmaktadır.

Buna göre, belirtilen doğal afetler göz önüne alındığında aşağıdakilerden hangisi kesinlikle söylenemez?

- A) İnsanları sosyal ve psikolojik açıdan etkiledikleri
- B) Bir ülke veya bölge sınırları içinde farklı derecede etkili oldukları
- C) Tarım ve yerleşim alanlarına zarar verdikleri
- D) Aynı alanlarda etkili oldukları
- E) Önceden tahmin edilebilen meteorolojik afetlerden oldukları

31. Türkiye'de tarımsal üretim ve üretilen ürünlerin ekonomiye katkısı, tarım bölgelerine göre farklılıklar göstermektedir.

Buna göre, aşağıdakilerden hangisi bu farklılıkları ortaya çıkaran etmenlerden biri değildir?

- A) Yetiştirilen ürünlerin ekonomik değerlerinin farklı olması
- B) Ekili-dikili arazilerin verimliliğinin farklı olması
- C) Bölge iklimlerinin birbirinden farklı olması
- D) Tüketici nüfusun bölgelere göre farklılık göstermesi
- E) Yer şekillerinin bölgesel farklılıklar göstermesi

32. Her bir akı karasından seçerek Varlık dağlarını delip geçerek Düzde ben bir insan olmaya geldim

Nimri Dede'ye ait bir şiirden alınan bu dizelerin her biri, sırasıyla felsefenin alt disiplinlerinden hangilerinin konusu olabilir?

- A) Epistemoloji - ontoloji - etik
- B) Etik - epistemoloji - estetik
- C) Ontoloji - estetik - etik
- D) Etik - epistemoloji - ontoloji
- E) Ontoloji - estetik - epistemoloji

1 NİSAN 2012

YÜKSEKÖĞRETİME GEÇİŞ SINAVI (YGS)

TÜRKÇE TESTİ

SOSYAL BİLİMLER TESTİ

TEMEL MATEMATİK TESTİ

FEN BİLİMLERİ TESTİ

1. A
2. E
3. D
4. D
5. B
6. E
7. C
8. A
9. C
10. B
11. D
12. E
13. A
14. E
15. B
16. C
17. A
18. B
19. E
20. D
21. E
22. A
23. E
24. C
25. D
26. A
27. B
28. E
29. B
30. A
31. E
32. D
33. C
34. A
35. E
36. B
37. C
38. D
39. A
40. B

1. C
2. B
3. D
4. A
5. E
6. B
7. C
8. B
9. E
10. A
11. D
12. B
13. E
14. A
15. D
16. C
17. E
18. C
19. A
20. B
21. C
22. B
23. A
24. D
25. E
26. C
27. A
28. E
29. B
30. D
31. D
32. A
33. C
34. B
35. D
36. B
37. A
38. E
39. D
40. B

1. A
2. C
3. E
4. C
5. B
6. E
7. D
8. D
9. B
10. D
11. D
12. E
13. E
14. A
15. D
16. C
17. B
18. A
19. A
20. A
21. E
22. B
23. B
24. C
25. B
26. A
27. D
28. A
29. D
30. B
31. C
32. E
33. A
34. C
35. B
36. C
37. C
38. D
39. B
40. E

1. E
2. C
3. B
4. E
5. A
6. B
7. D
8. B
9. C
10. C
11. A
12. D
13. D
14. E
15. D
16. E
17. B
18. D
19. A
20. B
21. E
22. C
23. A
24. E
25. C
26. B
27. D
28. D
29. E
30. B
31. A
32. E
33. C
34. D
35. B
36. A
37. D
38. C
39. A
40. E