



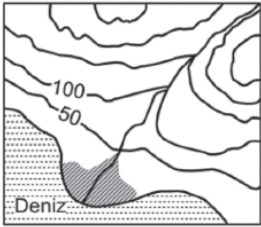
SINIFI :	NO :	ADI, SOYADI:
Hepinize başarılar dilerim.		

Kömür, çok miktarda bitkisel maddenin, havasız bir ortamda ve basınç altında değişmesi sonucunda oluşan bir kayadır.

Buna göre kömür, aşağıdaki kayaç türlerinden hangisine bir örnektir?

- A) İç püskürük
C) Kimyasal tortul
E) Kırıntı (mekanik) tortul
- B) Dış püskürük
D) Organik tortul

(1991 ÖSS)

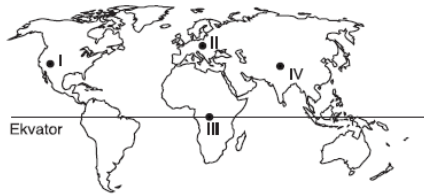


Yukarıdaki topoğrafya haritasında taralı alan-
daki alüvyal topraklarda horizonların oluşma-
masının nedeni aşağıdakilerden hangisidir?

- A) Eğimin azaldığı yerlerde oluşması
B) Mineral ve organik madde bakımından zengin olması
C) Taban suyunun yüksek olması
D) Kil içeriğinin yüksek olması
E) Akarsuların getirdiği malzemelerle sürekli yenilenmiş olması

(2013 YGS)

Orman üst sınırını sıcaklığın yetersizliği ve yük-
selti belirler.



Buna göre, haritadaki numaralanmış yerlerin
hangisinde orman üst sınırının en yüksek ol-
ması beklenir?

- A) I B) II C) III D) IV E) V

(2009 ÖSS – Sos 1)

Yeryüzündeki göl sularının tuzlu, tatlı ya da
sodali olmasında aşağıdakilerden hangisinin
etkisi yoktur?

- A) Gölün gideğinin olup olmaması
B) Göl çanağının kayaç yapısı
C) Gölün denizden yüksekliği
D) Göle ulaşan akarsuların az ya da bol su taşı-
ması
E) Gölün bulunduğu yerin iklim özellikleri

(2006 ÖSS – Sos 1)

X bölgesinin doğal bitki örtüsü maki, Y bölgesinin
doğal bitki örtüsü bozkırdır.

Bu durum, X ve Y bölgelerinin aşağıdakilerin
hangisi bakımından farklı olmasına bağlanabilir?

- A) Düzlük alanların oranı
B) Toprak türü
C) Uygulanan tarım yöntemleri
D) Yapılan hayvancılık türü
E) İklim tipi

(2006 ÖSS – Sos 1)

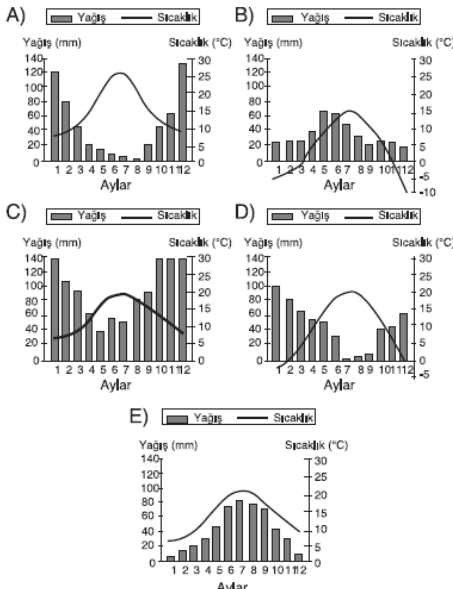
Bir ülkede yer alan X ve Y yörelerinde ormanla-
rın bir bölümü yangın nedeniyle tahrip olmuştur.
Bu alanlar kendi haline bırakıldığında, X yöresin-
de orman bir süre sonra kendini yenilemiş, Y yö-
resinde ise yenileyememiş ve ağaçlandırma ya-
pılması gerekmiştir.

Buna göre, X ve Y yöreleri için aşağıdakiler-
den hangisi kesinlikle doğrudur?

- A) X yöresinde nem oranı Y yöresindekinden
fazladır.
B) X ve Y yörelerinin enlemleri farklıdır.
C) Y yöresinde akarsu ağı X yöresindekinden
daha sıktır.
D) Y yöresinin ortalama yükseltisi X yöresinde-
kinden fazladır.
E) X yöresinin yüzölçümü Y yöresininkinden bü-
yüktür.

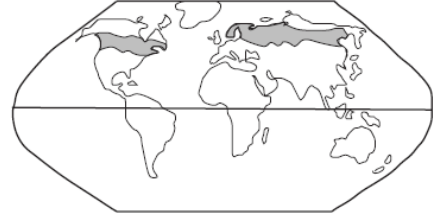
(2004 ÖSS)

Yazları sıcak ve kurak, kışları ise ılık ve yağışlı
geçen yerlerde yetişen, soğuğa dayanıksız bir
kültür bitkisi aşağıdaki grafiklerin hangisinde
gösterilen iklim tipinde yetiştirilebilir?



(1994 ÖSS)

Aşağıdaki haritada bir doğal bitki örtüsünün coğ-
rafi dağılışı gösterilmiştir.



Bu dağılışa dayanarak, bu bitki ile ilgili aşağı-
daki yargılardan hangisine varılabilir?

- A) Ilıman iklimlerde yetişir.
B) Her mevsim bol yağışa gereksinimi vardır.
C) Kış soğuklarından etkilenmez.
D) Soğuk rüzgârlardan olumsuz yönde etkilenir.
E) Her mevsim bol ışığa gereksinimi vardır.

(1994 ÖSS)

Aşağıdaki toprak türlerinden hangisi Akde-
niz iklimi bölgesinde, kalkerli araziler üzerin-
de yaygın olarak bulunur?

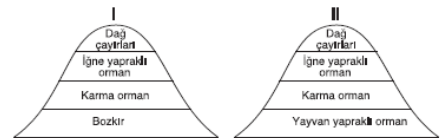
- A) Terra rossa B) Çernezyom
C) Alüvyal topraklar D) Podzol
E) Kahverengi orman toprakları

(1993 ÖYS)

Aşağıdaki durumların hangisinde, bir kaynak
suyunun sıcaklığı yıl boyunca pek fazla de-
ğişmez?

- A) Yağmur ve kar sularıarla besleniyorsa
B) Debisi yıl içinde azalıp çoğalıyorsa
C) Orta enlemlerdeki bir bölgede yer alıyorsa
D) Su, yerin derinliklerinden geliyorsa
E) Taban suyu seviyesi yüksekse

(1990 ÖSS)



Yukarıdaki şekilde, iki bölgedeki bitki kuşakları-
nın yükseliğe göre dağılışı gösterilmiştir.

I. bölgenin en alt kesiminde bozkırların yer
alması aşağıdakilerde hangisinin sonucu
olabilir?

- A) Deniz etkisine açık olması
B) Yaz sıcaklıklarının düşük olması
C) Buharlaşmanın az olması
D) Nem oranının düşük olması
E) Termik alçak basınç alanı olması

(1991 ÖYS)

Çalışma çağıının dışında kalan nüfusa bağımlı nüfus denir. Bu nüfusun toplam nüfustaki payı ise bağımlı nüfus oranı olarak tanımlanır. Geri kalmış ülkelerde çocuk bağımlı nüfus oranı, gelişmiş ülkelerde ise yaşlı bağımlı nüfus oranı fazladır.

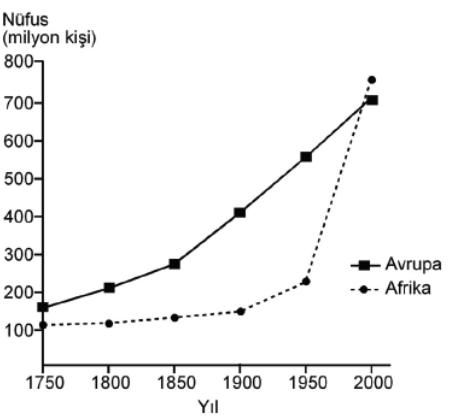
Ülkeler	Yaş grupları (%)			İş gücüne dahil olmayan nüfus oranı (%)
	0 – 14	15 – 64	65+	
K	13,5	64,3	22,2	7,2
L	45	52,5	2,5	28,3
M	18,6	65	16,4	16,8
N	11,2	67	21,8	8
P	44,5	53,1	2,4	29,5

Buna göre, verilen tabloyla ilgili olarak aşağıdakilerden hangisi doğrudur?

- A) Toplam bağımlı nüfus oranı en az N'dedir.
- B) K ve P benzer gelişmişlik özelliklerine sahiptir.
- C) Çalışan nüfus oranı en fazla L'dedir.
- D) L ve P, farklı gelişmişlik özelliklerine sahiptir.
- E) Toplam bağımlı nüfus oranı en fazla M'dedir.

(2012 LYS - 3)

Aşağıdaki grafikte, 1750-2000 yılları arasında Avrupa ve Afrika kıtalarının nüfusu gösterilmiştir.



Yalnızca bu grafikteki bilgilere dayanarak, aşağıdaki sonuçlardan hangisine ulaşılabılır?

- A) Avrupa'da nüfus en çok 1750-1800 yılları arasında artmıştır.
- B) 1850-1900 yılları arasında Afrika'daki doğum ve ölüm oranları birbirine eşittir.
- C) Verilen yılların tumunde, Avrupa'nın nüfusu Afrika'dan fazladır.
- D) 1750 – 1990 yılları arasında Afrika'dan kıta dışına yoğun göç olmuştur.
- E) Afrika'daki nüfus artış hızının en yüksek olduğu dönem 1950 – 2000'dir.

(2011 YGS)

Bir ülke nüfusunun genç olması,

- I. Doğum oranının yüksek olması
 - II. Ortalama yaşam süresinin uzun olması
 - III. Bebek ölüm oranının düşük olması
 - IV. Yaşam standardının yüksek olması
- koşullarından hangilerinin birlikte var olmasının kesin sonucudur?**

- A) I ve II
- B) I ve III
- C) II ve III
- D) II ve IV
- E) III ve IV

(1997 ÖSS)

Bir ülkenin gelişmişlik düzeyi hakkında,

- I. çalışan nüfusun sektörlere dağılışı,
- II. toplam nüfus,
- III. nüfus yoğunluğu,
- IV. kişi başına düşen ulusal gelir

verilerinden hangilerine dayanarak yorum yapılamaz?

- A) I ve II
- B) I ve III
- C) II ve III
- D) II ve IV
- E) III ve IV

(2009 ÖSS – Ed - Sos)

Bir ülkede, beş yıl arayla yapılanı iki nüfus sayımı arasında doğal nüfus artış hızı ortalama %1 olmasına karşın nüfus 43 milyondan 45 milyona çıkmıştır.

Buna göre bu ülkede, iki sayım dönemi arasında nüfusun artmış olması,

- I. komşu bir bölgenin ülkeye bağlanması.
- II. yaşam seviyesinin yükselmesi ve ortalama insan ömrünün uzaması
- III. çalışmak üzere dışarıdan yetişkin nüfusun gelmesi,
- IV. doğum oranlarının ölüm oranlarına göre artması

durumlarından hangileriyle açıklanabilir?

- A) I ve II
- B) I ve III
- C) II ve III
- D) II ve IV
- E) III ve IV

(2011 LYS - 4)

Aşağıdaki tabloda, X ve Y ülkelerinde nüfusun bir yıl içerisindeki doğal artış ve gerçek artış oranları verilmiştir.

	X ülkesi (%)	Y ülkesi (%)
Doğal artış oranı	21	13
Gerçek artış oranı	12	33

Buna göre, X ve Y ülkeleri için aşağıdakilerden hangisi söylenebilir?

- A) X ülkesinin nüfusu Y ülkesinden azdır.
- B) Y ülkesinin nüfus yoğunluğu, X ülkesinden fazladır.
- C) X ülkesinde bir yıldaki bebek ölümleri, Y ülkesinden fazladır.
- D) X ülkesinin nüfusu, Y ülkesinden daha hızlı artmıştır.
- E) Y ülkesi, X ülkesinden daha fazla dış göç almıştır.

(2010 YGS)

İkincil ve üçüncül ekonomik sektörlerin, birincil sektöre göre daha gelişmiş olduğu bir ülkede aşağıdaki durumlardan hangisinin ortaya çıkması beklenmez?

- A) Eğitim düzeyinin yüksek olması
- B) Kişi başına düşen gelirin yüksek olması
- C) Çalışan nüfusun yaş ortalamasının düşük olması
- D) Nüfus artış hızının düşük olması
- E) Ortalama yaşam süresinin uzun olması

(2012 LYS – 4)

Orta Asya, Himalayalar, Kongo havzası ve Grönland yeryüzünün çok seyrek nüfuslu yerlerine birer örnektir.

Bu bölgelerin coğrafi özellikleri göz önüne alındığında, aşağıdakilerden hangisinin bir yerdeki nüfusun seyrek olmasına neden olduğu söylenemez?

- A) Akarsu boylarının uzun olması
- B) Yağış miktarının çok az ve yağış rejiminin düzensiz olması
- C) Yıl boyunca, nem oranının yüksek ve yağış miktarının fazla olması
- D) Buzulların geniş alan kaplaması
- E) Engebenin çok fazla olması

(1996 ÖSS)

Göç farklı nedenlerden dolayı birey veya toplulukların sürekli ya da geçici olarak yer değiştirmesi olayıdır. Göçe neden olan çok sayıda etken olmakla birlikte, bunlar üç ana grupta toplanabilir. Kimi zaman deprem, volkanik olaylar, sel, taşkın, heyelan ve tropikal fırtınalar gibi doğa olayları göçlere neden olurken kimi zaman da savaşlar, iç karışıklıklar, ihtilaller ve dini nedenler gibi toplumsal ve siyasal olaylar sonucunda göç yaşanmaktadır. En sık görülen göçler ise birey ya da toplulukların geçim sıkıntısı çekmesinden ya da daha iyi koşullarda yaşamak istemesinden kaynaklanan ekonomik nedenli göçlerdir.

Bu parçaya dayanarak, Türkiye'de görülen aşağıdaki göçlerden hangisinin diğerlerinden farklı bir nedene bağlı olduğu söylenebilir?

- A) İyi eğitim almış kişilerin gelişmiş ülkelere gitmesi ya da eğitimini yurt dışında başarıyla tamamlayan kişilerin o ülkelere yerleşmesi
- B) Lozan Barış Antlaşması gereğince Türkiye ve Yunanistan arasında nüfus değişimi yapılması
- C) 1960'lı yıllardan sonra, iş gücü sıkıntısı çeken Batı Avrupa ülkelerine işçi gönderilmesi
- D) Kırsal kesimde yaşayan ailelerin miras nedeniyle topraklarının küçülmesi sonucu şehirlere yerleşmesi
- E) Yaz aylarında, özellikle Güneydoğu Anadolu Bölgesi'nden birçok insanın, tarım işçisi olarak başka bölgelere gitmesi

(2010 LYS-4)

**TANER ARSLAN
COĞRAFYA ÖĞRETMENİ**

1	2	3	4	5	6	7	8	9	10	11	12	13	14	15	16	17	18	19	20
D	E	C	C	E	A	A	C	A	D	D	A	E	B	C	B	E	C	A	A